

















POČÍTÁNÍ S PLODY PODZIMU





MANIPULACE S PŘÍRODNINAMI

Žáci si přinesou kaštiny, žaludy a lískové ořechy. Ty pak podle pokynů v pracovním listě přikládají na volná políčka.






1. Doplň řadu:

						<input type="text"/>	<input type="text"/>
					<input type="text"/>	<input type="text"/>	<input type="text"/>
					<input type="text"/>	<input type="text"/>	<input type="text"/>






2. Počítej a zapiš číslicemi:

a)   +   =






 + = .

b)    +   =

 + = .

c)     -  =

 - = .

d)    -   =


 - = .


e)    -    =


 - = .


Žáci si přinesou kaštiny, žaludy a lískové ořechy. Ty pak podle pokynů v pracovním listě přikládají na volná políčka.


3. Porovnej, doplň znaménka a zapiš čísla:


a) 

b) 

c) 

d) 

e) 


f) 



POČÍTÁNÍ S PLODY PODZIMU


MANIPULACE S PŘÍRODNINAMI


Žáci si přinesou kaštiny, žaludy a lískové ořechy. Ty pak podle pokynů v pracovním listě přikládají na volná políčka.



4. Dopln tak, aby byla znaménka pravdivá

a) $>$ 

b)  $<$ 

c) $=$ 

d) $<$ 

e)  $>$ 

5. Svaž barevnou pastelkou do uzlíčku:

Červenou pastelkou: 5 žaludů

Modrou pastelkou: 2 kaštiny

Zelenou pastelkou : 6 oříšků

Kolik zbylo volných žaludů, kaštanů a oříšků?

Kaštanů zbylo , žaludů a oříšků .

